

**ВСЕРОССИЙСКАЯ ОЛИМПИАДА ШКОЛЬНИКОВ 2025- 2026 гг. I (ШКОЛЬНЫЙ) ЭТАП****Время выполнения работы – 60 минут****Максимальный балл – 100****Задание №1.** Выберите один вариант ответа из 4-х предложенных (всего 16 баллов).**1.1.** Какой период первобытности самый древний?

- 1) Мезолит                      2) Неолит                      3) Юрский период    4) Палеолит

**1.2.** Эта пещера была прозвана учёными «Сикстинская капелла первобытного искусства»

- 1) Киик-Коба                      2) Капова                      3) Альтамира                      4) Коске

**1.3.** Материал для письма в Древнем Египте

- 1) Пергамен                      2) Бумага                      3) Папирус                      4) Глиняные таблички

**1.4.** Двуглавый орёл как государственный символ России впервые появился на печати

- 1) Ивана III                      2) Ивана IV                      3) Екатерины II                      4) Александра I

**1.5.** Какая религия в Средние века стала господствовать во всех странах Европы?

- 1) Иудаизм                      2) Буддизм                      3) Христианство                      4) Ислам

**1.6.** Выход к Балтийскому морю Россия получила при

- 1) Иване III                      2) Петре I                      3) Екатерине II                      4) Александре I

**1.7.** Крепостное право в России было отменено в

- 1) 1497 г.                      2) 1649 г.                      3) 1861 г.                      4) 1905 г.

**1.8.** Мы ведем отсчёт истории Новейшего времени с

- 1) конца XVIII века                      3) конца XIX века  
2) середины XIX века                      4) второго десятилетия XX века

**Задание №2.** Решите задачу (6 баллов).

Михаил Васильевич Ломоносов (1711 – 1765 гг.) – выдающийся русский учёный. Свои основные открытия он сделал в области физики и химии. По проекту Ломоносова в 1755 году был создан Московский университет, который впоследствии назвали его именем.

**2.1.** В каком веке жил и работал М.В. Ломоносов? (Ответ запишите римскими цифрами).**2.2.** Сколько полных веков прошло со времени открытия Московского университета до сегодняшнего дня? (Ответ без решения не принимается).**2.3.** Предположим, что Вам поручили подготовить сообщение о жизни и деятельности М.В. Ломоносова. Выберите книгу, которая поможет побольше узнать о нём. (Укажите номер книги).

- 1) «Знаменитые путешественники»    3) «Телефонный справочник Московского университета»  
2) «Выдающиеся россияне»    4) «История великих русских монархов»

**Задание №3.** Выберите правильные ответы (10 баллов).

- 1) Первую кругосветную экспедицию возглавил Фернан Магеллан  
2) Пароход был изобретен раньше, чем Христофор Колумб открыл Америку.  
3) В конце XIX века сообщения могли передавать по телеграфу  
4) Антарктиду открыли русские путешественники  
5) Метро появилось в XVII веке.  
6) Санкт-Петербург возник в Новое время

**Задание №4.** Расположите события в хронологической последовательности их деятельности (10 баллов).

- 1) Окончание Великой Отечественной войны    4) Полёт Ю.А. Гагарина в космос  
2) Распад СССР    5) Начало Первой мировой войны  
3) Великая Российская революция

**Задание №5.** Установите соответствие. К каждой позиции из первого столбца подберите позицию из второго (10 баллов).**СРАЖЕНИЕ**

- 1) Куликовская битва  
2) Бородинская битва  
3) Взятие Измаила  
4) Ледовое побоище

**ПОЛКОВОДЕЦ**

- 1) А.В. Суворов  
2) А. Невский  
3) Д. Донской  
4) М.И. Кутузов

**Задание №6.** Определите пропущенные в тексте имена, прозвища, даты и названия, обозначенные порядковыми номерами. При порядковых номерах даются пояснения о характере требуемой вставки. Заполните пробелы в тексте, ответ оформите в виде перечня элементов под соответствующими номерами (варианты для вставки даны в таблице) (20 баллов).

Конец XVI – начало XVII века в России историки называли (1, название исторического периода).

После смерти Ивана Грозного и его сыновей прекратился царский род. После этого на троне за короткий срок сменилось несколько правителей. Страна страдала из-за неурожаев и голода. Она была охвачена народными выступлениями. Воспользовавшись ситуацией войска (2, название страны) и (3, название страны), вторглись в Россию. Над нашей страной нависла смертельная опасность.

Центром организации сопротивления врагу стал (4, название города). Купец (5, имя) организовал сбор средств для создания (6, вооруженное формирование). Верховным воеводой выбрали (7, имя).

К концу лета (8, год) освободители подошли к столице. Бои за город продолжались до конца октября. 4 ноября (по ныне действующему календарю) были освобождены от захватчиков окрестности Кремля, а через два дня сдался и Кремль.

В (9, год) представители всех российских земель избрали царём 16-летнего (10, имя).


#### ВАРИАНТЫ ДЛЯ ВСТАВКИ

ИМЕНА	ТЕРМИНЫ	ДАТЫ	СТРАНЫ	ГОРОДА
Василий Шуйский	Пехота	1610 г.	Польша	Рязань
Кузьма Минин	Народное ополчение	1612 г.	Швеция	Калуга
Дмитрий Пожарский	Средние века	1613 г.	Франция	Нижний Новгород
Александр Невский	Новое время	1614 г.	Англия	Псков
Михаил Романов	Смутное время			
	Дружина			

**Задание №7.** Выберите изображения, непосредственно связанное с событиями, которые описаны в тексте задания №6 (10 баллов).




1



2



3



4

**Задание №8.** Выберите изображение города, который был освобожден в результате действий вооруженного формирования, приведенных в тексте задания №6 (6 баллов).




1



2




3




4

**Задание №9.** Перед Вами фотографии памятников, расположенных в Калининградской области. Соотнесите каждое изображение с населённым пунктом, в котором находится памятник, и определите местонахождение этого населенного пункта на карте. Населённые пункты обозначены пунсонами (точками) с соответствующими номерами. Обратите внимание, что две точки на карте – лишние. (12 баллов).



А



Б

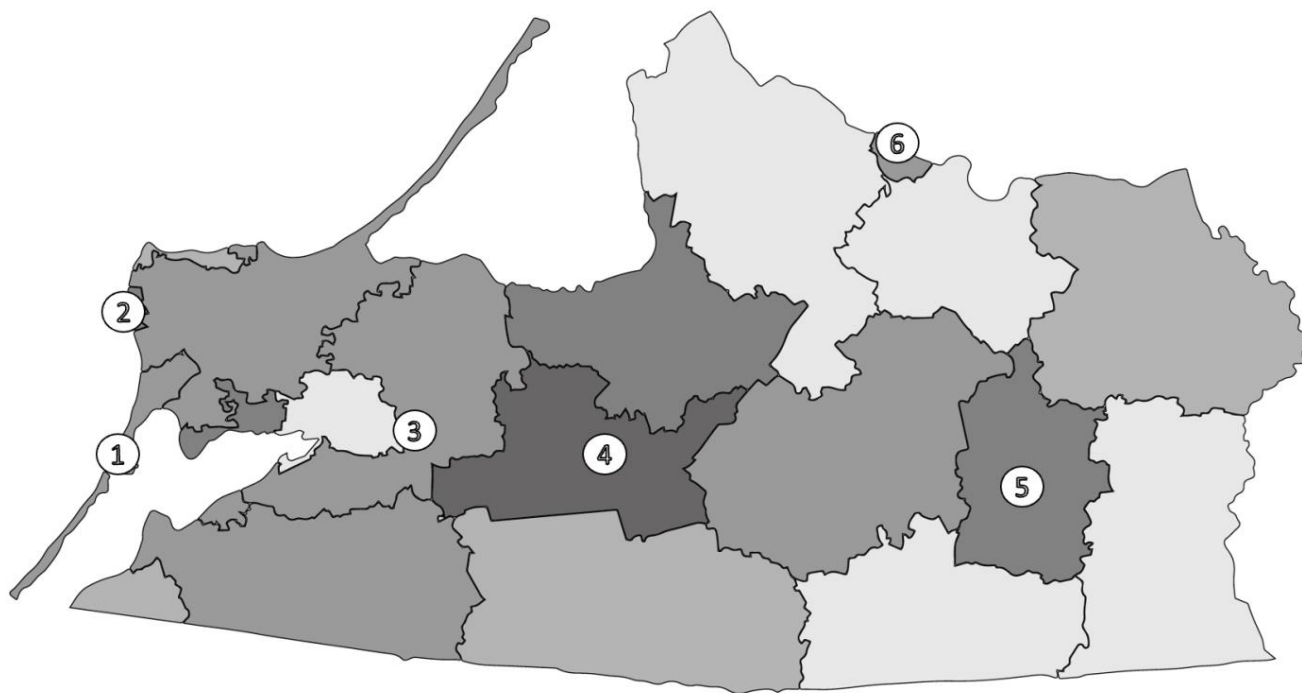




В



Г



**ОТВЕТЫ ПЕРЕНЕСИТЕ В БЛАНК ОТВЕТОВ!!!**